



Deneme Sınavı - 01

ULTI
Seri

1. ÜNİTE

Adı ve Soyadı :

Sınıfı :

Numarası :



657266

ÖĞRENCİ NO	YANITLAR
0 0 0 0 0 0	1 (A) (B) (C) (D) 11 (A) (B) (C) (D)
1 1 1 1 1 1	2 (A) (B) (C) (D) 12 (A) (B) (C) (D)
2 2 2 2 2 2	3 (A) (B) (C) (D) 13 (A) (B) (C) (D)
3 3 3 3 3 3	4 (A) (B) (C) (D) 14 (A) (B) (C) (D)
4 4 4 4 4 4	5 (A) (B) (C) (D) 15 (A) (B) (C) (D)
5 5 5 5 5 5	6 (A) (B) (C) (D) 16 (A) (B) (C) (D)
6 6 6 6 6 6	7 (A) (B) (C) (D) 17 (A) (B) (C) (D)
7 7 7 7 7 7	8 (A) (B) (C) (D) 18 (A) (B) (C) (D)
8 8 8 8 8 8	9 (A) (B) (C) (D) 19 (A) (B) (C) (D)
9 9 9 9 9 9	10 (A) (B) (C) (D) 20 (A) (B) (C) (D)

1.



Eleştirici ve yapıcı düşünme yeteneğinin gelişmesini, karşılaşılan sorunların çözümü ile ilgili beceriler kazanılmasını, toplumda bireysel ilişkilerin geliştirilmesini, uyumlu insanlar yetiştirilmesini, vatandaşlık haklarının öğrenilmesini, bireylerin doğru tercihler yapma alışkanlığı kazanmasını sağlar.

Elif Öğretmen, öğrencilerinden gelen aşağıdaki hangi soru üzerine bu cevabı vermiş olabilir?

- A) Sosyal bilgiler dersinin faydaları nelerdir?
- B) Sosyal bilgiler dersinde neler öğretilir?
- C) Sosyal bilgiler dersi hangi bilim dallarından yararlanır?
- D) Sosyal bilgiler dersi hangi yaş aralığındaki öğrencilere öğretilir?

2.

TRAFİKTE YOĞUNLUK

Balıkesir ilinin Erdek ilçesi, yaz turizminde yoğun günler yaşıyor. Bu yaz döneminin yoğun günlerinde Erdek'te yol yapım çalışmaları yapılmaktadır. Bu çalışmalar, ilçeye giriş çıkış yapan tatilcilerin trafikte uzun kuyruklar oluşturmalarına neden olmaktadır. Şantiye işçileri, oluşan bu trafik yüzünden işlerini zamanında bitiremeyeceklerini belirterek tepki göstermişlerdir. Bu yoğun trafiği düzenlemek için trafik polisleri de yoğun çaba harcamıştır.



Gazete haberindeki olayın çok boyutlu olduğunu;

- I. yol yapım çalışmalarından birden çok insanın etkilenmesi,
- II. yol yapım çalışmalarının farklı sonuçlara neden olması,
- III. Erdek'te yaz turizmi yaşanıyor olması

ifadelerinden hangileri kanıtlamaktadır?

- A) Yalnız I
- B) I ve II
- C) I ve III
- D) II ve III

3. Derya, aile içindeki hak ve sorumluluklarını karışık olarak aşağıdaki gibi sıralamıştır.

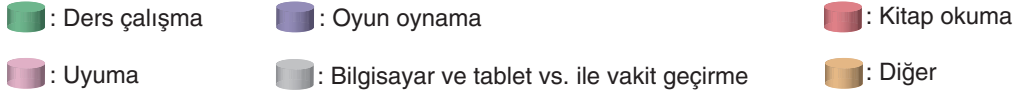
- I. Odamı temiz ve düzenli tutma
- II. Güvenli bir yuvada yaşama
- III. Ev işlerinde büyüklerime yardımcı olma
- IV. Yiyecek ihtiyacımın karşılanması

Buna göre Derya'nın yazdıkları aşağıdakilerin hangisinde doğru gruplandırılmıştır?

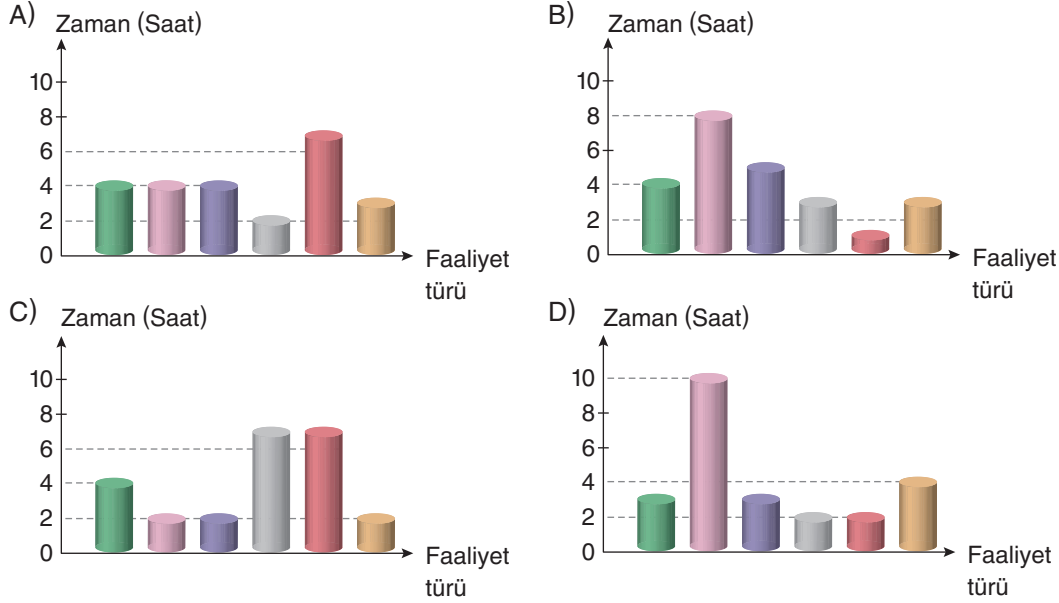
	Haklarım	Sorumluluklarım
A)	I ve II	III ve IV
B)	II ve IV	I ve III
C)	II ve III	I ve IV
D)	III ve IV	I ve II



4. 5. sınıf öğrencisi olan Arda, kişisel zamanını etkin ve verimli kullanmak için günlük plan yapmaya karar verir. Planında yer alması gerekenleri renklerle aşağıdaki gibi belirlemiştir.



Arda belirlediği bu faaliyetleri amacına uygun olarak aşağıdakilerin hangisindeki gibi planlamalıdır?



5.



Ceren'in bu anlatımına göre aşağıdaki ifadelerden hangisi yanlıştır?

- A) Bireyler farklı rollere sahip olabilir.
B) Aile grubu içinde birden çok rolümüz olabilir.
C) Hayatımız boyunca en çok rolümüzün olduğu grup, ailemizdir.
D) Ceren, bu rolleri doğumuyla birlikte elde etmiştir.

6. Defne, sınıf arkadaşları ve öğretmenleri ile yaşadığı şehirdeki müzeleri ve doğal güzellikleri gezdi. Bu geziye sosyal bilgiler dersinde karar vermişlerdi. Gezi sonrası Defne, yaşadığı şehirde bilmediği çok yer olduğunu fark etti.

Buna göre sosyal bilgiler dersi Defne'ye aşağıdaki katkılardan hangisini sağlamıştır?

- A) Yaşadığı çevreyi tanıma
B) Ülkemizi ilgilendiren konularda fikir sahibi olma
C) Sorun çözme becerisini geliştirme
D) Toplumsal ilişkilerin önemini fark etme

7. Yoksulluk, dünya üzerindeki milyonlarca çocuğun yaşadığı bir sorundur.



Yaşanan bu sorun çocukların;

- I. beslenme,
- II. barınma,
- III. eğitim

haklarından hangilerini olumsuz etkiler?

- A) Yalnız I B) I ve II C) II ve III D) I, II ve III

- 8.

Çocuk haklarının korunup geliştirilmesi amacıyla BM'ye bağlı olarak çalışan uluslararası kuruluş hangisidir?

Cevap:

Amaçları ve çıkarları ortak, en az iki kişiden oluşan kişiler bütününe ne ad verilir?

Cevap:

Yasalara uygun olarak bireylerin talep edebileceği ve sahip olduğu unsurlara ne ad verilir?

Cevap:

Aşağıdakilerden hangisi verilen cevap kutularına yazılabilecek kavramlar arasında yer almaz?

- A) Rol B) UNICEF C) Grup D) Hak



9. T.C. Millî Eğitim Bakanlığı, öğrencilerdeki akademik başarı düşüklüğü ile ilgili kapsamlı bir araştırma yaptı. Bu araştırma; akademik başarı üzerinde yeterli uyuma, dengeli beslenme, arkadaşlarla uyum, öğretmenlerle uyum gibi unsurların bu süreç üzerinde etkili olduğunu ortaya koydu.

Buna göre,

- I. T.C. Millî Eğitim Bakanlığı çalışma alanı ile ilgili araştırmalar yapmaktadır.
II. Öğrenci sayısının az olduğu sınıflarda başarı oranı daha yüksektir.
III. Öğrenci başarısı üzerinde etkili olan farklı unsurlar vardır.

yargılarından hangilerine ulaşılabilir?

- A) I ve II B) I ve III C) II ve III D) I, II ve III

10.

12 HAZİRAN DÜNYA ÇOCUK İŞÇİLİĞİNİ ÖNLEME GÜNÜ

Dünyada her 10 çocuktan biri çocuk işçi

Uluslararası Çalışma Örgütü (ILO), bu durumu, "Çocukların çocukluklarını yaşamaktan alıkoyan, potansiyellerini ve saygınlıklarını eksiltten, fiziksel ve zihinsel gelişimlerine zarar veren işlerde istihdam edilmesi" olarak tanımlıyor.

Dünya genelinde 152 milyon çocuk işçi bulunuyor.

152 MİLYON ÇOCUK İŞÇİNİN

64 MİLYONUNUN KIZ 88 MİLYONUNUN ERKEK

72 MİLYONUNUN İSE "TEHLİKELİ" İŞLERDE ÇALIŞMAKTA

OLDUĞUNU BİLİYOR MUYDUNUZ?

Yukarıdaki afişe göre çocuk işçiliği ile ilgili;

- I. çalışan erkek çocuk sayısının, kız çocuklarından daha fazla olduğu,
II. çocuk işçilerin büyük bir bölümünün tehlikeli işlerde çalıştığı,
III. ülkemizde çocuk işçi sayısının 150 milyondan fazla olduğu

değerlendirmelerinden hangilerine ulaşılabilir?

- A) Yalnız II B) I ve II C) I ve III D) I, II ve III



Deneme Sınavı - 02

2. ÜNİTE



Adı ve Soyadı :

Sınıfı :

Numarası :



657267

ÖĞRENCİ NO	YANITLAR
0 0 0 0 0 0	1 A B C D 11 A B C D
1 1 1 1 1 1	2 A B C D 12 A B C D
2 2 2 2 2 2	3 A B C D 13 A B C D
3 3 3 3 3 3	4 A B C D 14 A B C D
4 4 4 4 4 4	5 A B C D 15 A B C D
5 5 5 5 5 5	6 A B C D 16 A B C D
6 6 6 6 6 6	7 A B C D 17 A B C D
7 7 7 7 7 7	8 A B C D 18 A B C D
8 8 8 8 8 8	9 A B C D 19 A B C D
9 9 9 9 9 9	10 A B C D 20 A B C D

1.

Topkapı Sarayı'nın yapımına Fatih Sultan Mehmet Dönemi'nde başlanmış sonrasında yapılan eklemeler ile Saray bugünkü hâlini almıştır. Enderun, birun ve harem adı verilen üç ayrı bölümden oluşan Topkapı Sarayı, yaklaşık üç yüz yıl Osmanlı yönetiminin merkezi olmuştur. Günümüzde müze olarak kullanılan Topkapı Sarayı'nda başta Kutsal Emanetler ve Kaşıkçı Elması olmak üzere birçok değerli parça sergilenmektedir.



Buse bu anlatımında;

- I. tarihî eser,
- II. doğal güzellik,
- III. tarihî mekân

kavramlarından hangilerine yer vermiştir?

- A) I ve II B) I ve III C) II ve III D) I, II ve III

2. Aşağıda İyonlara ait bazı özellikler verilmiştir.

- Ticaret sayesinde zenginleşmişlerdir.
- Ticaret yaptıkları toplumlarda gördükleri yenilikleri kendi ülkelerine getirmişlerdir.
- Özgür ve demokratik bir düşünce ortamı oluşturmuşlardır.

Bu durum İyonlarda aşağıdakilerden hangisine ortam hazırlamıştır?

- A) Şehir devletleri hâlinde yönetilme
B) Güçlü ordular kurma
C) Dönemin en güçlü devleti olma
D) Bilimsel alanda ilerleme

3. Hititlerde ordu çok önemliydi, özellikle kullandıkları savaş arabaları onlara avantaj sağlamıştır. Mısırlılarla Suriye hâkimiyeti için 16 yıl boyunca savaşmışlardır (MÖ 1296-MÖ 1280). Sonunda iki devlet, tarihin bilinen ilk yazılı antlaşması olan Kadeş Antlaşması ile savaşa son vermişlerdir.

Buna göre Hititler ile ilgili,

- I. Yazılı hayata geçmişlerdir.
- II. Komşu uygarlıklarla mücadele etmişlerdir.
- III. Merkezî krallıkla yönetilmişlerdir.

yargılarından hangilerine ulaşılabilir?

- A) I ve II B) I ve III
C) II ve III D) I, II ve III



4. Aşağıda Babiller tarafından hazırlanan Hammurabi Kanunlarında yer alan maddelerden bazıları verilmiştir.

- ✓ Eğer bir adam başka bir adamın gözünü çıkarırsa onun gözü de çıkarılır.
- ✓ Bir adam kendisi ile eşit olan birinin dişini kırarsa onun da dişi kırılır.
- ✓ Eğer bir kişi başkasının kemiğini kırarsa onun kemiği de kırılır.
- ✓ Bir kimse işlemek üzere bir tarlayı teslim alır ve o tarladan hiçbir mahsul elde edemezse bu onun tarlada çalışmadığını ispatlar ve o kimsenin, komşusunun yetiştirdiği kadar tahılı tarla sahibine teslim etmesi gerekir.



Buna göre,

- I. Hammurabi Kanunları, sosyal yaşamda uyulması beklenen ortak kurallar için hazırlanmıştır.
- II. Babiller, komşu uygarlıklardan etkilenmiştir.
- III. Babiller, merkezî bir krallıkla yönetilmiştir.

yargılarından hangilerine ulaşılabilir?

- A) Yalnız I B) I ve III C) II ve III D) I, II ve III

5. Bir toplumun dünden bugüne taşıdığı maddi ve manevi değerlerin tümüne “kültür” adı verilir. Kültür kavramı içerisinde; yemekler, halk oyunları, dinî ve millî bayramlar, müzik gibi birçok unsur yer alır. Zengin bir kültürel birikime sahip olan Anadolu coğrafyasında birçok kültürel unsur benzer olsa da bu unsurların arasında farklı olanları da görmek mümkündür.

Buna göre aşağıdaki kültürel unsurların hangisinde bölgelerimiz arasında farklılık görülmez?

- A) Yemekler B) Halk oyunları
C) Kıyafetler D) Dinî bayramlar

6.

	Kültürel Özellik	Yaygın Olduğu Şehir
I.	İskender kebabı	Bursa
II.	Cağ kebabı	Gaziantep
III.	Dondurma	Kahramanmaraş
IV.	Baklava	Erzurum

Tablodaki eşleştirmelerin tamamının doğru olabilmesi için hangi kutucukların birbiriyle yeri değiştirilmelidir?

- A) I ve II B) I ve III
C) II ve IV D) III ve IV

7. Poyraz, sınıfta yapacağı “Kültürel Zenginliğimiz” adlı sunumu için aşağıdaki görselleri hazırlamıştır.



Buna göre Poyraz hazırladığı bu görsellerle sınıf arkadaşlarına kültürümüzün;

- I. el sanatları,
- II. mimari özellikler,
- III. giyim kuşam özellikleri

unsurlarından hangileri ile ilgili bilgiler verebilir?

- A) Yalnız II B) I ve II C) I ve III D) I, II ve III
8. Anadolu'nun hemen hemen pek çok yerinde düğün öncesinde yapılan “kız isteme” geleneği evliliğin ilk adımıdır. Ardından nişan töreni yapılır. Nişan töreninden sonra gelinin babaevindeki son gecesinde “kına gecesi” düzenlenir. Bu gecede gelinin eline kına yakılır. Bazı yörelerde gelinin ayağına ve ensesine de kına sürülür. Kına gecesine Bursa’da “el kınası”, Malatya’da “gelini kınaya çekme”, Muğla’da “kına düğünü”, Ünye’de “baş bağlama” gibi adlar verilir.



Kız İsteme



Kına Gecesi

Bu metindeki açıklamalardan yararlanılarak aşağıdaki yargılardan hangisine ulaşamaz?

- A) Kız isteme, ülkemizin birçok yerinde uygulanan bir gelenektir.
- B) Nişan töreni, düğün öncesinde yapılan bir uygulamadır.
- C) Kına gecesi törenleri en çok Bursa, Malatya, Muğla, Ünye gibi şehir ve ilçelerimizde yapılır.
- D) Kına gecelerinde uygulanan yöntemler yörelere göre farklılık gösterebilir.

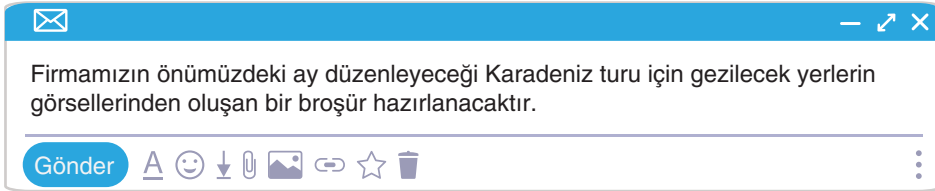


9. (I) Urartular, İlk Çağ'da Doğu Anadolu'da kurulmuş merkezi krallıkla yönetilen bir devlettir. (II) Temel geçim kaynakları tarım ve hayvancılığa dayanmakla birlikte maden işletmeciliğine bağlı olarak ürettikleri ürünleri de Anadolu'ya satmışlardır. (III) Çok tanrılı inanç sistemleri olan Urartuların en önemli tanrıları Haldi'dir.

Bu metinde numaralanmış cümleler Urartuların aşağıdaki alanların hangisindeki yaşamları ile ilgili bilgi vermektedir?

	I	II	III
A)	Siyasi	Ekonomik	Dinî
B)	Askerî	Siyasi	Sosyal
C)	Dinî	Kültürel	Ekonomik
D)	Siyasi	Askerî	Sosyal

10. Grafik Tasarımcı Ahmet Bey'e yeni işi ile ilgili elektronik posta üzerinden gelen ileti aşağıda verilmiştir.



Buna göre Ahmet Bey hazırlayacağı broşürde aşağıdaki görsellerden hangisini kullanamaz?



Sümela Manastırı



Peribacaları



Uzun Göl



Ayder Yaylası



Adı ve Soyadı :

Sınıfı :

Numarası :



657268

ÖĞRENCİ NO

0	0	0	0	0	0
1	1	1	1	1	1
2	2	2	2	2	2
3	3	3	3	3	3
4	4	4	4	4	4
5	5	5	5	5	5
6	6	6	6	6	6
7	7	7	7	7	7
8	8	8	8	8	8
9	9	9	9	9	9

YANITLAR

1	A	B	C	D	11	A	B	C	D
2	A	B	C	D	12	A	B	C	D
3	A	B	C	D	13	A	B	C	D
4	A	B	C	D	14	A	B	C	D
5	A	B	C	D	15	A	B	C	D
6	A	B	C	D	16	A	B	C	D
7	A	B	C	D	17	A	B	C	D
8	A	B	C	D	18	A	B	C	D
9	A	B	C	D	19	A	B	C	D
10	A	B	C	D	20	A	B	C	D

1.

Ya Hepsi Yok Olursa!

Seyhan Nehri kıyısında üç bine yakın kovanda on binlerce arı öldü. Yıllardır bölgede arı yetiştiriciliği yapan çok sayıda kişi, ölümlere suyu çekilen nehirdeki kirliliğin neden olduğunu söyledi.



Arıcular "Arılar su ihtiyacını bu nehirden karşılıyordu. Nehrin kirlenmesi, sudaki atık ve kimyasal maddelerin artması sonucu arılar ölmeye başladı. Arılar gibi balıklar da ölüyor. Tüm bunlar bizi de etkiliyor. Arıcılık yaptığımız 600 kovanımız varken şu an 300 kovanımız kaldı." açıklamasında bulundular.

Genel ağ haberi

Bu haberdeki açıklamalardan yararlanılarak;

- yaşanılan bir olayın birden fazla unsunu etkileyebileceği,
- meydana gelen olayların, balıkçılar ve arıcular için olumsuz sonuçlar ortaya çıkardığı,
- nehirde oluşan kirliliğin, insanları ve bazı canlıları farklı açılardan etkilediği

değerlendirmelerinden hangilerine kesin olarak ulaşılabilir?

- A) Yalnız II B) I ve III C) II ve III D) I, II ve III

2. Sinan, sosyal bilgiler dersinin etkin bir vatandaş olma sürecimize katkıları ile ilgili "Doğru (D)-Yanlış (Y)" tablosunu aşağıdaki gibi değerlendirmiştir.

	D	Y
Sayısal alanda beceri ve yeteneklerimizi geliştirir.		Y
İçinde yaşadığımız toplumun bir parçası olmamızı sağlar.	D	
Millet olma bilincimizi güçlendirir.	D	
Vücudumuzun yapısı ve işleyişi ile ilgili bilgi verir.		Y

Yapılan her doğru değerlendirme 10 puan olduğuna göre Sinan bu etkinlikten toplamda kaç puan almıştır?

- A) 40 B) 30 C) 20 D) 10

3. **Madde 28:** Taraf devletler, çocuğun eğitim hakkını kabul ederler ve bu hakkın fırsat eşitliği temeli üzerinde gerçekleştirilmesi için çalışırlar.

Buna göre aşağıdakilerden hangisinin varlığı Çocuk Hakları Sözleşmesi'nin bu maddesi ile ilişkilendirilebilir?

- A) Lösemi hastaneleri
B) Görme engelliler okulu
C) Çocuk parkları
D) Tiyatrolar




4.



Madde 1: 18 yaşına kadar her birey çocuk sayılır.



Madde 9: Her çocuğun beslenmeye, sıcak bir yuvaya ve bir aileye sahip olma hakkı vardır.



Madde 12: Her çocuk, düşüncesini özgürce açıklama hakkına sahiptir.



Madde 23: Engelli çocuklar, özel olarak korunur. Devlet onların bakımlarını, eğitimlerini ve iş sahibi olmalarını sağlar.

Çocuk haklarına dair sözleşmenin verilen maddelerinden yola çıkılarak,

- I. Çocuk kabul edilmek için bir yaş sınırı vardır.
- II. Çocukların temel hakları garanti altına alınmıştır.
- III. Özel gereksinimli çocuklar da göz önünde tutulmuştur.

yargılarından hangilerine ulaşılabilir?

- A) I ve II B) I ve III C) II ve III D) I, II ve III

5.



Diş kirası, iftar yemeği davetini kabul ederek misafirlere, teşekkür etmek için verilen hediyedir. Çok uzun yıllar önce (Osmanlı Devleti yıllarında) oldukça yaygın olan bir ramazan geleneğidir. Geçmişte sıklıkla uygulanan bu geleneğine günümüzde çok az rastlanılmaktadır.

Buna göre diş kirası geleneği ile ilgili,

- I. Geçmişten günümüze ulaşmıştır.
- II. Eski önemini kaybetmiştir.
- III. Dinî günlerde uygulanan özel bir gelenektir.

yargılarından hangilerine ulaşılabilir?

- A) Yalnız I B) I ve II
C) II ve III D) I, II ve III

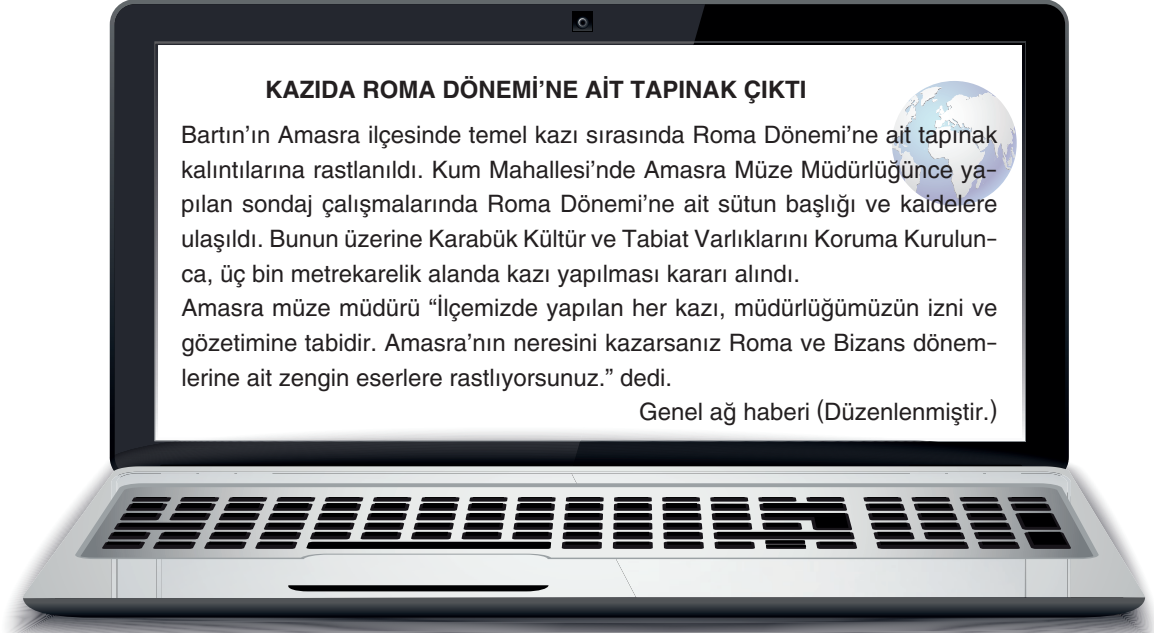
6. Ali'nin günlük yaşamında içinde bulunduğu grup ya da kurumlardaki bazı rolleri aşağıda verilmiştir.

- Evlat olmak
- Öğrencilik
- Takım kaptanlığı

Buna göre aşağıdaki sorumluluklardan hangisi Ali'nin sahip olduğu roller ile ilgili değildir?

- A) Annesine yardımcı olma
B) Otobüste yaşlılara yer verme
C) Antrenmanlara katılma
D) Ödevlerini zamanında yapma

7.



Bu genel ağ haberi;

- I. tarihî mekan,
- II. tarihî eser,
- III. doğal güzellik

kavramlarından hangileri ile ilişkilendirilebilir?

- A) I ve II B) I ve III C) II ve III D) I, II ve III

8.

İlk Çağ Anadolu Uygarlıkları	
<ul style="list-style-type: none"> • Anadolu'da kurulan bir medeniyettir. • Tarih yazıcılığını başlatmışlardır (Anal). • İlk yazılı antlaşmayı yapmışlardır (Kadeş). 	?
<ul style="list-style-type: none"> • Tarımı korumak için sert kanunlar yapmışlardır. • Dokumacılık alanında (tapates) ilerlemişlerdir. • Çengelli iğneyi (fibula) icat etmişlerdir. 	?
<ul style="list-style-type: none"> • İlk ticari yol olan Kral Yolu'nu yapmışlardır. • İlk parayı kullanmışlardır. • Ordularında paralı asker kullanmışlardır. 	?

Bu tabloda “?” ile belirtilen yerlere aşağıdaki İlk Çağ Anadolu uygarlıklarından hangisi getirilemez?

- A) Hititler B) Urartular C) Frigler D) Lidyalılar



9. Aşağıdaki tabloda verilen unsurlar ilgili olduğu kavramla ilişkilendirilerek “✓” sembolü ile gösterilecektir.

	Tarihî Eser	Doğal Varlık
Kale		
Orman		
Saat Kulesi		
Şelale		
Medrese		
Millî Park		
Han		
Deniz		

Buna göre tablodaki tarihî eser ve doğal varlık sayısı aşağıdakilerin hangisinde doğru verilmiştir?

	Tarihî Eser	Doğal Varlık
A)	2	6
B)	6	2
C)	4	4
D)	5	3

10. Günümüzde Âşık Veysel, Neşet Ertaş, Âşık Mahzuni Şerif'in ölümsüz eserleri (türküleri), Batı tarzı müzik altyapısı ve enstrümanları ile birleştirilip genç kuşakların beğenisine sunulmaktadır. Böylece geçmişin mirası olan türküler sonraki kuşaklara aktarılmaktadır.

Buna göre Türk kültürü ile ilgili,

- I. Sürekliştir.
- II. Değişime açıktır.
- III. Farklı kültürlerden etkilenmiştir.

yargılarından hangilerine ulaşılabilir?

- A) I ve II B) I ve III C) II ve III D) I, II ve III



Adı ve Soyadı :

Sınıfı :

Numarası :




657269

ÖĞRENCİ NO	YANITLAR
0 0 0 0 0 0 0	1 A B C D 11 A B C D
1 1 1 1 1 1 1	2 A B C D 12 A B C D
2 2 2 2 2 2 2	3 A B C D 13 A B C D
3 3 3 3 3 3 3	4 A B C D 14 A B C D
4 4 4 4 4 4 4	5 A B C D 15 A B C D
5 5 5 5 5 5 5	6 A B C D 16 A B C D
6 6 6 6 6 6 6	7 A B C D 17 A B C D
7 7 7 7 7 7 7	8 A B C D 18 A B C D
8 8 8 8 8 8 8	9 A B C D 19 A B C D
9 9 9 9 9 9 9	10 A B C D 20 A B C D

1. Hititler, Kuzey Suriye topraklarına hâkim olmak için dönemin güçlü devletlerinden olan Mısır uygarlığıyla mücadele etmişlerdir. Mısırlılarla Hititler arasında yıllarca süren savaş sonucunda Kadeş Antlaşması imzalanmıştır (MÖ 1280). Kadeş Antlaşması, insanlık tarihinin ilk yazılı antlaşması olarak bilinir. Bu antlaşmayla birlikte savaşlardan sonra antlaşma yapma uygulaması başlamıştır.

Buna göre Hititler ile ilgili aşağıdakilerden hangisi söylenemez?

- A) Mısırlılar ile toprak hâkimiyeti mücadelesine girdiklerine
B) Kadeş Antlaşması'nı imzalamadan önce uzun bir savaş süreci yaşadıklarına
C) Savaş sonrasındaki antlaşma metinlerinde hiyeroglif (resim yazısı) yazısını kullandıklarına
D) Tarihin bilinen ilk yazılı antlaşmasını imzaladıklarına



2. Anadolu uygarlıklarından biri olan Lidyalılar, parayı icat eden ilk uygarlıktır. Paranın icat edilmesi ile ticari faaliyetlerdeki değiş tokuş usulü son bulmuştur. Bununla birlikte Lidyalılar, tarihteki ilk ticaret yolu olan Kral Yolu'nun da bir kısmını inşa etmişlerdir. Lidya şehirleri, bu yol sayesinde önemli ticaret merkezleri hâline gelmiştir.



Buna göre Lidyalılar ile ilgili;

- I. tarihteki bazı ilkleri gerçekleştirdikleri,
II. ticari faaliyetlere önem verdikleri,
III. Anadolu uygarlıkları içerisindeki en gelişmiş ekonomiye sahip oldukları

yorumlarından hangilerine ulaşılabilir?

- A) Yalnız II
B) I ve II
C) I ve III
D) II ve III

3. Emir, ödevlerini düzenli yapmayan ve girmesi gereken online (çevrim içi) derslere zamanında katılmayan bir öğrencidir. Ayrıca gün içinde zamanının çoğunu televizyon izleyerek ve uyuyarak geçiren bir çocuktur.

Buna göre Emir ile ilgili aşağıdakilerden hangisi söylenemez?

- A) Derslerinde başarı gösteremeyen bir öğrencidir.
B) Zamanını doğru kullanma konusunda yetersizdir.
C) Sorumluluklarını yerine getirmemektedir.
D) Gün içindeki bazı faaliyetlerine ayırması gerekenden fazla zaman ayırmaktadır.



4.



Bu haber, olayların çok boyutluluğu açısından değerlendirildiğinde aşağıdakilerden hangisine ulaşamaz?

- A) Yaşanılan bir olaydan birden çok unsurun etkilendiğine
- B) Olayların çeşitli olumlu ve olumsuz sonuçlara yol açabileceğine
- C) Doğada meydana gelen her olayın birden çok nedeninin olduğuna
- D) Yaşanılan olayların etkilerinin zaman içinde farklı alanlarda görüldüğüne

5. Aşağıdaki tabloda sosyal bilgiler dersinin faydaları ile ilgili bilgiler verilmiştir. Bu bilgiler “Doğru (D)-Yanlış (Y)” olarak değerlendirilecektir.

İfadeler	D/Y
Bilim ve teknolojinin insan hayatı üzerindeki olumlu ve olumsuz etkilerini öğrenmemizi sağlar.	
İnsan vücudunun çalışma sistemini öğrenmemizi sağlar.	
Ülkemize karşı görev ve sorumluluklarımızın neler olduğunu öğrenmemizi sağlar.	
Ülkemizin diğer ülkelerle olan ekonomik ve kültürel ilişkilerini öğrenmemizi sağlar.	

Buna göre bu bilgiler aşağıdakilerin hangisinde sırasıyla doğru değerlendirilmiştir?

- A)


D
Y
D
D
- B)

D
D
Y
Y
- C)

D
D
D
Y
- D)

D
D
Y
D

6.



Görsellerdeki yerlerin ortak özelliği aşağıdakilerden hangisidir?

- A) Tarihî eser olmaları
B) Tarihî mekân olmaları
C) Tarihî nesne olmaları
D) Doğal varlık olmaları

7. Burcu, yaz tatili için İzmir'den Trabzon'a gitmiş ve bulunduğu yerlerde gördüğü kültürel öğeler onu çok şaşırtmıştır.



Buna göre Burcu'ya aşağıdakilerden hangisi söylenmelidir?

- A) Ülkemizin her şehrinde birbirinden farklı kültürel unsur olduğu söylenemez.
B) Kültürel unsurlarımız, yörelere göre farklılık gösterebilir.
C) Kültürel unsurlar, asla birbiri ile benzeşmez.
D) Her şehir, her kültürel unsuru zamanla değiştirerek kullanır.

8.

Ben bu Meclisi okulumda duydum. Hayatımda "Çocuk Meclisi" kavramını ilk defa duymuştum. Ama biraz araştırdıktan sonra orada çocukların kendi kararlarını aldıklarını, Meclisin demokratik bir yer olduğunu öğrendim ve seçimlere katıldım. Seçimler sonucunda çocuk Meclisine asil üye olduğumu öğrendiğimde ise çok mutlu olmuştum. Burada kendime güvenim arttı. Aynı zamanda kendi kararlarımı veriyor ve çok mutlu oluyorum.

Çocuk Hakları Komisyonu Üyesi

Bu uygulamanın çocuklara sağladığı fayda ile ilgili,

- I. Çocukların katılım ve kendini ifade etme yeteneğini geliştirir.
II. Demokrasiyi yaşayarak öğretir.
III. Çocuklara ek gelir sağlar.

yargılarından hangileri doğrudur?

- A) I ve II
B) I ve III
C) II ve III
D) I, II ve III